


(一) 供詞填充：把適當的答案填在_____上。(20% @2%)
(每個答案只可用一次)

成員	父母	學習	設備	尊敬	規則	身心
表情	愛護	安全	保護	舌頭	收拾	

例：我們要尊敬老師。

1. 每天按時間表_____書包，可以避免忘記帶東西上學。
2. 學校是個大家庭，由不同的_____組成，各盡責任。
3. 大家過馬路時要注意_____。
4. 我們要愛護課室裏的各種_____。
5. 在學校裏，我們一起_____不同的知識。
6. 我們應該遵守學校的_____，以維持學校的秩序。
7. 下課後，同學們參加各種有益_____的課外活動。
8. 我的臉孔會做不同的_____。
9. 我們要好好_____身體各部份。
10. _____可以嘗出不同的味道。



(二) 選擇題：細看下列各題，把正確的答案圈出來。

(14% @2%)

例：同學要怎樣對待老師？

A. 尊敬

B. 查問

C. 合作

1. 我們身體哪部份不會做動作？

A. 手

B. 頭髮

C. 腳

2. 我們應根據甚麼東西執拾書包？

A. 上課時間表 B. 課外圖書 C. 課本

3. 以下哪一項活動不會在上課時進行？

A. 做工作紙

B. 朗讀課文

C. 和同學追逐

4. 以下哪位不是學校裏的成員？

A. 書記

B. 警察

C. 校長

5. 下列哪位人物負責清潔課室？

A. 老師

B. 校車司機

C. 校工

6. 以下哪個動作能減輕眼睛疲勞？

A. 做眼操

B. 看電視

C. 游泳

7. 在禮堂進行週會時，我們應該怎樣做？

A. 離開座位

B. 大聲說話

C. 專心聆聽

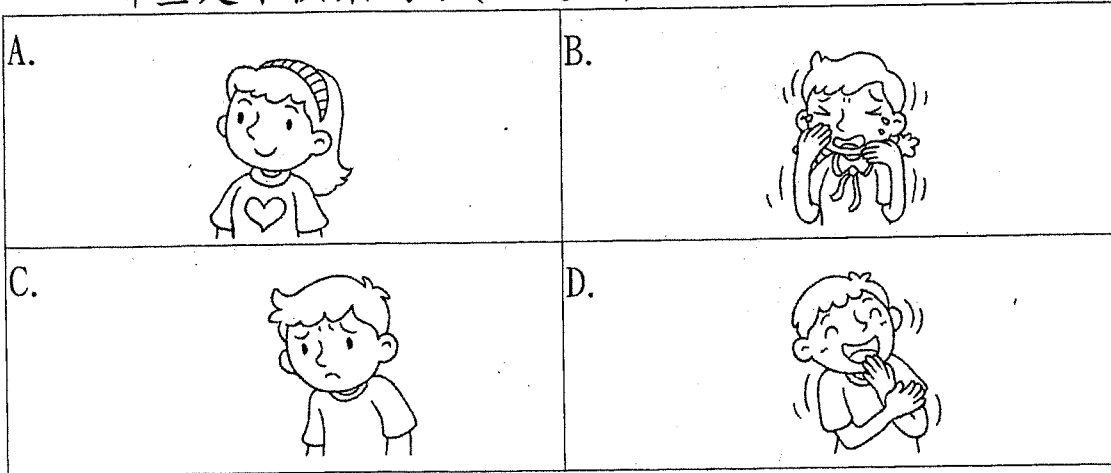


班別：一年級___班 常識科 姓名：_____ ()

(三) 看圖分類：把代表答案的英文字母填在橫線上。

(甲) 以下哪些小朋友的表情是快樂的？

哪些是不快樂的？(6% @2%)

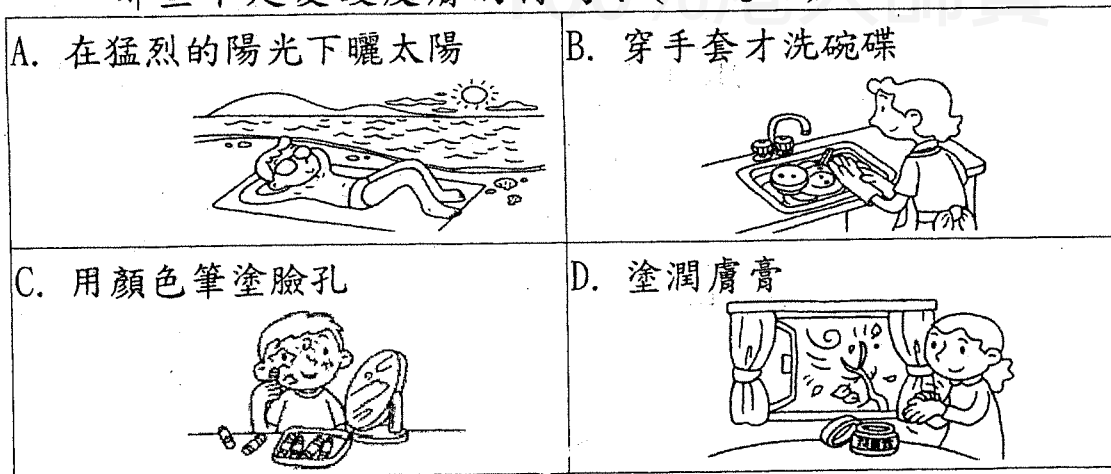


快樂的表情：_____

不快樂的表情： B _____


(乙) 以下哪些是愛護皮膚的行為？

哪些不是愛護皮膚的行為？(6% @2%)



愛護皮膚的行為：_____

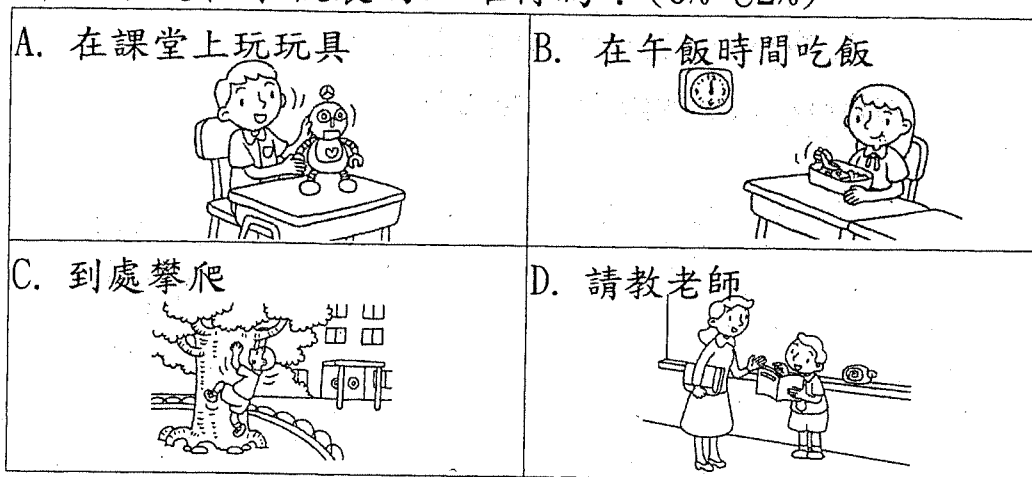
不是愛護皮膚的行為： A _____



(四) 看圖辨別：把代表答案的英文字母填在橫線上。

(甲) 以下哪些是在學校裏的正確行為？

哪些不是在學校裏的正確行為？(6% @2%)




正確的行為： _____

不正確的行為： A _____

(乙) 以下哪些是愛護學校公物的行為？

哪些不是愛護學校公物的行為？(6% @2%)



愛護學校公物的行為： _____

不是愛護學校公物的行為： C _____




班別：一年級___班 常識科 姓名：_____ ()

(五) 看圖判斷：把代表答案的英文字母填在橫線上。

(甲) 以下哪些學生有注意安全？

哪些學生沒有注意安全？(6% @2%)

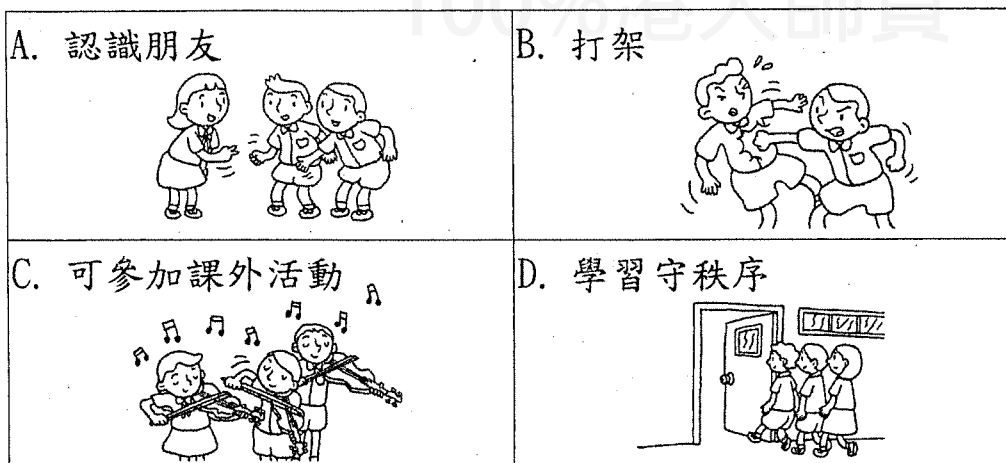


有注意安全：_____

沒有注意安全： B

(乙) 以下哪些是上學的好處？

哪些不是上學的好處？(6% @2%)



上學的好處： A

不是上學的好處： _____



(六) 配對：

(甲) 以下的學校設備有甚麼用途？

把代表答案的英文字母填在()內。

(每個英文字母只可用一次) (8% @2%)

學校的設備

例：光管 (F)

1. 報告板 ()

2. 急救箱 ()

3. 籃球架 ()

4. 鋼琴 ()

設備的用途

A. 張貼圖畫和告示

B. 供學生做體育運動

C. 彈奏歌曲

D. 供學生休息

E. 存放急救用品

F. 照明

(乙) 以下的功用屬於哪個身體器官？

把代表答案的英文字母填在()內。

(每個英文字母只可用一次) (6% @2%)

A. 用來看東西	B. 辨別不同氣味	C. 用來走路
D. 可以聽聲音	E. 用來吃食物	F. 用來寫字

例：(A)

1. ()

2. ()


3. ()



班別：一年級__班 常識科 姓名：_____ ()

(七) 情境題：細閱以下資料，把正確的答案圈出來。

(8% @2%)



例：圖中的同學在哪裏？

- A. 操場 B. 課室 C. 小賣部

1. 同學不可以在下列哪個時間到小賣部買食物？

- A. 上課 B. 小息 C. 午休

2. 圖中哪個同學不守秩序？


- A. 子輝 B. 志明 C. 小華

3. 圖中兩位女同學應該怎樣做？

- A. 離開 B. 上前教訓同學 C. 告訴老師

4. 我們在小賣部購買小食時，應該怎樣做？

- A. 爭先恐後 B. 耐心排隊 C. 跑來跑去



(八)時事常識題：細閱下列各題，把代表答案的英文字母圈出來。(8% @2%)

例：香港包括香港島、新界和哪個地區？

- A. 九龍 B. 大埔 C. 中國

1. 聖公會阮鄭夢芹銀禧小學在大埔的哪一個屋邨？

- A. 大元邨 B. 富亨邨 C. 富善邨

2. 以下哪一個政府部門負責預測天氣？

- A. 香港天文台 B. 教育局 C. 衛生署

3. 下列哪一個地方不是在大埔的？

- A. 大埔海濱公園 B. 香港文化中心 C. 香港鐵路博物館

4. 香港政府把哪一天定為國慶日假期？

- A. 8月1日 B. 9月1日 C. 10月1日

第八頁

(全卷完)

