

(一) 填充:把適當的答案填在橫線上。(12% @2%)


關懷 珍惜 特別 安全 改過 食物 校園

1. 學校裏設有各種\_\_\_\_\_室，如圖書室、電腦室等，方便我們學習。
2. 當發現同學做錯事時，我們應加以勸告，並請他\_\_\_\_\_。
3. 當同學不開心時，我們可以用慰問來\_\_\_\_\_他。
4. 學校裏每位同學都有責任保持\_\_\_\_\_清潔。
5. 不同的動物，吃的\_\_\_\_\_也不相同。
6. 生命是十分可貴的，我們要好好\_\_\_\_\_。


(二) 答題: (10% @2%)

1. 誰負責領導學校日常運作及作出決策? 1. \_\_\_\_\_
2. 我們應避免讓電器接觸到什麼東西，以防漏電? 2. \_\_\_\_\_
3. 除了空氣和水外，植物還需要些什麼才能生長? 3. \_\_\_\_\_
4. 一般來說，狗還是人類的壽命較長? 4. \_\_\_\_\_
5. 人或動物，最終也會怎樣? 5. \_\_\_\_\_


(三) 看圖判斷：以下哪些同學的做法是正確的？正確的，在方格內填✓；不正確的，在方格內填×。(12% @2%)



讓座給長者




拋垃圾



看其他書籍



舉手發問



協助老師拿簿



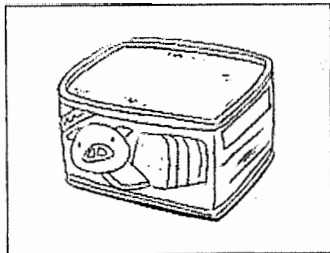
考試作弊

(四) 判斷：以下哪些說法是正確的？正確的，在( )內填✓；不正確的，在( )內填×。(7% @1%)

1. ( ) 不同的學校，校服都一樣。
2. ( ) 每間學校的學校名稱都是不相同的。
3. ( ) 借功課給同學抄並沒有犯錯。
4. ( ) 種子在適當的環境下，會長出植物。
5. ( ) 我們應隨身帶備手帕。
6. ( ) 植物需要吃食物。
7. ( ) 所有生物的壽命也大致相同。

(五) 看圖配對：在以下情況，我們需要使用什麼工具？把正確的英文字母填在括弧內。(10% @2%)

1.



( )

A. 剪刀

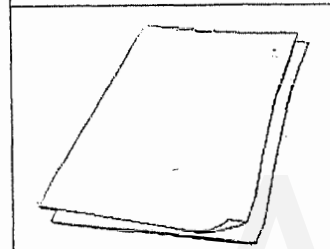
2.



( )

B. 罐頭刀

3.



( )

C. 筷子

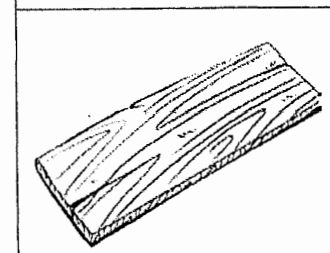
4.



( )

D. 鋸

5.



( )

E. 飲管

F. 牙刷

(六) 填表：以下的科技用品為我們帶來什麼方便？在適當的方格內填上正確的英文字母。(8% @2%)

A. 微波爐      B. 冷氣機      C. 電視機      D. 熱水爐


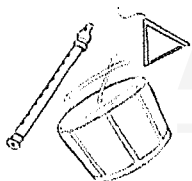

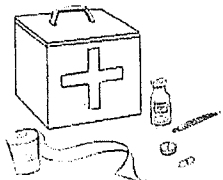
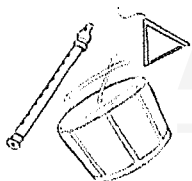


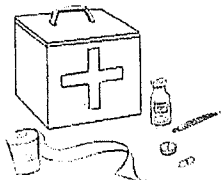
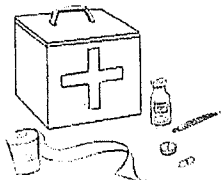

功能	科技用品
省時／省力	
提供娛樂	
使生活更舒適	

(七) 配對：以下動物需要甚麼食物？在( )內填寫代表答案的英文字母。(8% @2%)

- |       |     |       |
|-------|-----|-------|
| 1. 金魚 | ( ) | A. 肉類 |
| 2. 猴子 | ( ) | B. 紅蟲 |
| 3. 老虎 | ( ) | C. 毛蟲 |
| 4. 小鳥 | ( ) | D. 水果 |
|       |     | E. 樹葉 |

(八) 看圖連線：以下的設備應放在哪兒？把相關的連起來。

(8% @2%)

1.  •  •  • 
2.  • 
3.  • 
4.  • 

(九) 選擇：把代表答案的英文字母，填在( )內。(10% @2%)

1. 進食時，為甚麼要使用工具？

- A. 節省金錢
- B. 節省氣力
- C. 方便進食




( )

2. 下圖中哪一種東西不是生物？

A

B

C



( )

3. 哪一項有關植物的描述是不正確的？

- A. 植物是生物
- B. 植物需要水和陽光
- C. 植物沒有活動能力

( )

4. 以下哪種做法，盡了愛護校園的責任？

- A. 在牆壁上胡亂畫畫
- B. 小心使用公物，用完後放回原處
- C. 在校園花園裏採摘花朵

( )

5. 當同學跌倒時，我們應：

- A. 扶起他
- B. 取笑他
- C. 不理他

( )

(十)問答(7%)

1. 我們應將垃圾放在什麼地方？(2%)

---

2. 老師會用什麼方法，把一些重要的信息發放給你或你的家人？試舉一項。(2%)





---

3. 試舉出一項防火設施？(3%)

---

(十一)看圖填色：以下動物的哪一個部份用來保護自己？

把正確的部分填上顏色。(8% @2%)

1.		2.	
3.		4.	

全卷完