

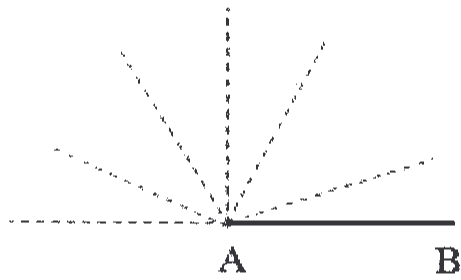
(一) 範疇：數 (36% @2%)

1. 用阿拉伯數字寫出「二百零八」：_____
2. 把 6、2、3 組成一個最小的三位單數：_____。
3. 在 374 這個三位數中，「3」在 _____ 位，
表示的數值是 _____。
4. $7 \times 5 =$ _____
5. $2 \times 6 =$ _____
6. $8 \times 9 =$ _____
7. $4 \times 4 =$ _____
8. $10 \times 1 =$ _____
9. 6 的 4 倍可寫成：_____ \times _____
10. $2 + 2 + 2 + 2 =$ _____ \times _____
11. 6 個 9 可以寫成：_____ \times _____
12. $82 - 15 =$ _____
13. $100 - 18 =$ _____
14. $73 - 18 =$ _____
15. $123 + 135 + 222 =$ _____
16. $134 + 235 =$ _____
17. $7 \times 4 = 4 \times$ _____
18. 在空格內填上適當的數字(全對才給分)。

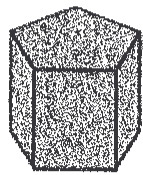
$$\begin{array}{r}
 6 2 5 \\
 - \boxed{} 7 1 \\
 \hline
 3 \boxed{} 4
 \end{array}$$

(二) 範疇：圖形與空間 (16% @2%)


1. 在下圖沿著虛線畫出一條直線，
使它與直線 AB 形成一個直角。



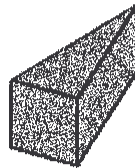
2. 在橫線上填上適當的英文字母。(10% @2%)(全對才給分)



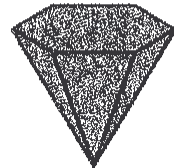
A



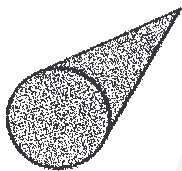
B



C



D



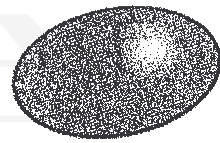
E



F



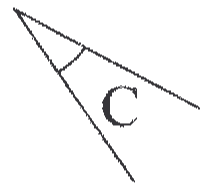
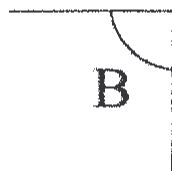
G



H


- (a) 角錐體：_____ (b) 圓錐體：_____
- (c) 角柱體：_____ (d) 圓柱體：_____
- (e) 球體：_____

3. 比較圖中的角，把它們由小至大排列出來。(全對才給分)



答案： _____ , _____ , _____
(最小) (最大)

4. 在下圖畫出比直角大的角。



(三) 範疇：度量 (30% @2%)

1. 7 米 5 厘米 = _____ 厘米

2. 4 米 29 厘米 = _____ 厘米

3. 把適當的長度單位填在橫線上。(2% @1%)


(a) 香港最高的大廈環球貿易廣場，樓高約 484 _____。

(b) 爸爸的皮鞋約長 30 _____。

4. 下列哪項最接近街燈的高度？

A. 4 厘米 B. 40 厘米


C. 4 米 D. 40 米



5. 一小時有 _____ 分鐘。


6. 2012 年是閏年，2 月份有 _____ 天。

7.




電子鐘顯示的時間是 ____ 午 ____ 時 ____ 分。

8. 填寫鐘面顯示的時間。



_____ 時 _____ 分

9.



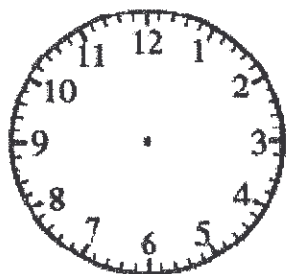
小智星期日上午學習小提琴，課堂長 40 分鐘，

上圖時鐘顯示課堂開始的時間，

課堂將在 ____ 午 ____ 時 ____ 分完結。

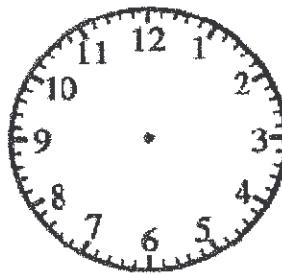
10. 依時間在鐘面上加畫時針和分針。(全對才給分)

(a)



8 時 40 分

(b)



11 時 5 分

11. 根據下圖 12 月的月曆，回答問題。

12 月						
星期日	星期一	星期二	星期三	星期四	星期五	星期六
			1	2	3	4
5	6	7	8	9	10	11
12	13	14	15	16	17	18
19	20	21	22	23	24	25
26	27	28	29	30	31	

- (a) 小晴 在 12 月 26 日生日，那天是星期 _____。
- (b) 學校的新年假期在 1 月 3 日結束，那天是星期 _____。
- (c) 媽媽參加了上海 5 天旅行團，她在 12 月 10 日返回香港，她出發的日期是 _____ 月 _____ 日。
- (d) 小欣 逢星期二和星期五練習鋼琴，她在 12 月共練習 _____ 次。

(四)應用題 (18% @3%)

列式計算下列各題：列式佔 1%，答案佔 1%，表達 1%，
列式錯誤，全題不給分。

1. 小美買了一本小說，她第一天看了 25 頁，比第二天多 6 頁，
她兩天共看了多少頁？

第一天	
第二天	
共看了	

2. 每個花瓶有花 5 朵，每枝售 8 元。
每個花瓶裏的花共售多少元？

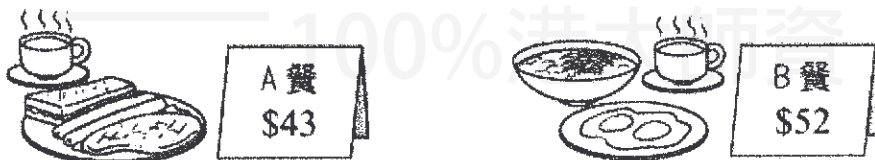


3. 小麗和姐姐一起做曲奇餅，小麗做了 117 塊，
姐姐比她多做 56 塊，姐姐做了曲奇餅多少塊？

4. 三文魚壽司每件售 6 元，志明買了三文魚壽司 6 件，
共需付多少元？

5. 飛行棋每盒售 9 元，玩具店賣出飛行棋 0 盒，可得多少元？

6. 茶餐廳供應以下兩款早餐。



小明點了一份 A 餐，付了 90 元，應找回多少元？

全卷完