

(一) 供詞填充：把適當的答案填在()內。(20% @2%)


(每個答案只可使用一次)

分開	食物	人口	熱身
變壞	浪費	完善	戶外
愛惜	吸毒	生病	煮熟

1. 衣服得來不易，我們必須要()。
2. 除了空氣和水，我們要靠()來維持生命。
3. 新市鎮對外交通網絡()，吸引不少市民搬到那兒居住。
4. 生和熟的食物要()處理和存放。
5. 妥善保存食物可以避免食物()。
6. 運動前，我們應先做()運動。
7. 當我們在()活動時，必須注意天氣變化。
8. 吃了不清潔的食物，就會容易()。
9. 香港的()不斷增加，所以房屋供不應求。
10. 濫用藥物可能會染上()的惡習，引致嚴重後果。

(二)簡答題：把正確的答案填在橫線上。(20% @2%)

1. 香港大部分的食物是從哪裏輸入？ 1. _____
2. 寫出一種羊毛衣服的特性？ 2. _____
3. 泳衣主要用甚麼材料製成的？ 3. _____
4. 我們可用哪種儲藏方法把米密封包裝？ 4. _____
5. 寫出一種香港房屋的類型。 5. _____
6. 當運動時感到不適，我們應怎樣做？ 6. _____
7. 同學生病了，寫出一個關懷同學的方法。 7. _____
8. 運動後，我們應該怎樣做，才可以補充失去的水分？ 8. _____
9. 寫出選購衣服時應注意的其中一個原則。 9. _____
10. 寫出一個新市鎮的設施。 10. _____



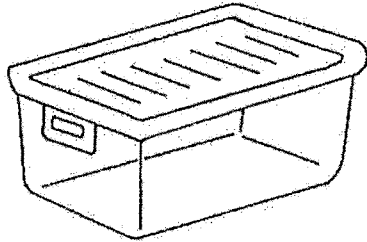
(三)配對：把代表正確答案的英文字母填在()內。(8% @1%)

(甲)以下保存食物的用品的名稱是甚麼？

保存食物的用品

保存食物用品的名稱


1.



()

A. 密封膠盒

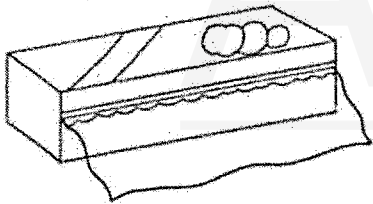
2.



()

B. 發泡膠盒


3.



()

C. 密封玻璃瓶


4.



()

D. 保鮮紙

E. 密實袋




(乙) 以下運動屬於甚麼類別？

運動

運動類別


1.



()

A. 空中運動


2.



()

B. 水上運動


3.



()

C. 體操運動


4.



()

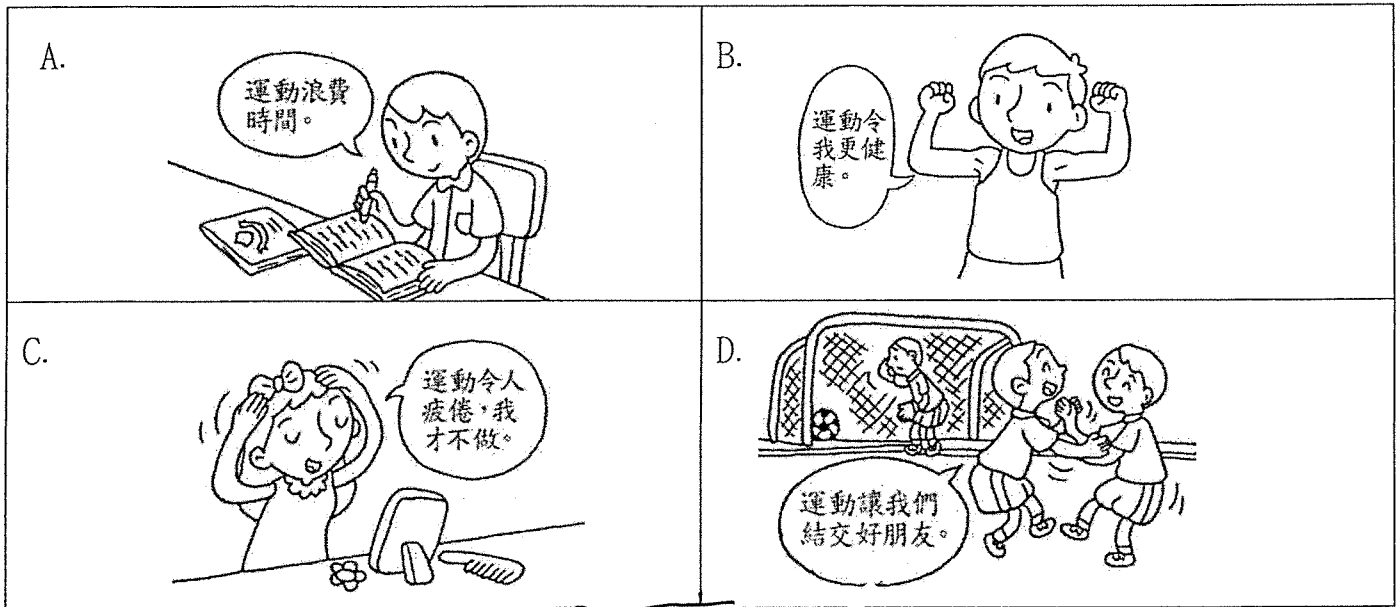
D. 田徑運動

E. 球類運動



(四)看圖辨別:把代表正確答案的英文字母填在適當的橫線上。(20% @1%)


(甲)下列哪些小朋友對運動有正確的看法?哪些對運動有不正確的看法?



對運動有正確看法的小朋友: _____


對運動有不正確看法的小朋友: _____

(乙)以下哪些運動適合小學生參加?哪些運動不適合小學生參加?





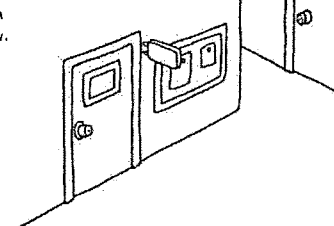



適合小學生參加的運動: _____

不適合小學生參加的運動: _____






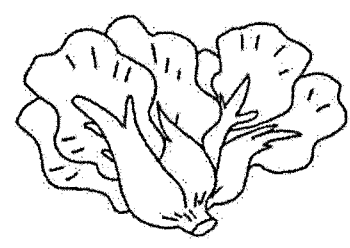
(丙) 以下哪些地方適宜做運動？哪些地方不適宜做運動？

<p>A.</p>  <p>泳池</p>	<p>B.</p>  <p>商場</p>	<p>C.</p>  <p>籃球場</p>
<p>D.</p>  <p>電梯</p>	<p>E.</p>  <p>走廊</p>	<p>F.</p>  <p>超級市場</p>

適宜做運動的地方：_____

不適宜做運動的地方：_____

(丁) 生病時，哪些食物適合病人進食？哪些食物不適合病人進食？

<p>A.</p> 	<p>B.</p> 
<p>C.</p> 	<p>D.</p> 

適合病人進食的食物：_____

不適合病人進食的食物：_____




(五)看圖作答：細閱下圖，然後圈出正確的答案。(12% @2%)

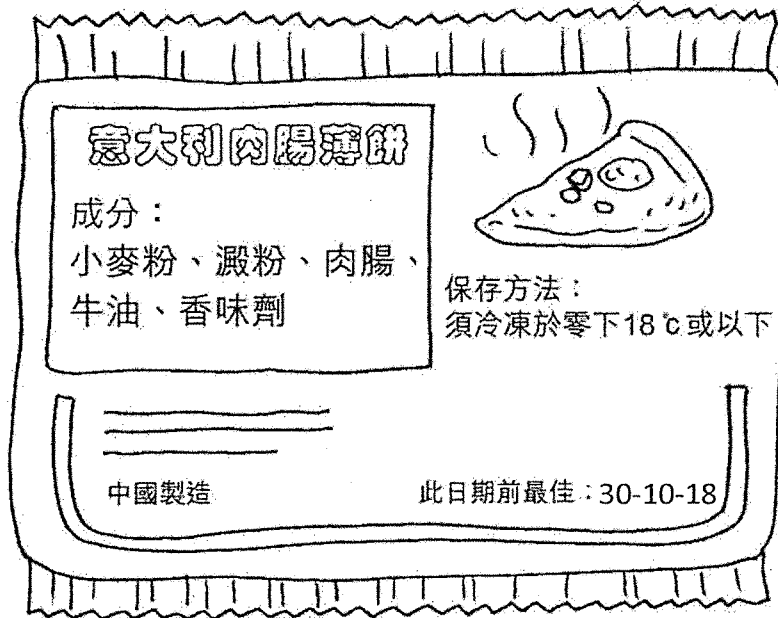
(甲)



1. 圖中的小朋友有甚麼病徵？
 - A. 發燒
 - B. 胃痛
 - C. 皮膚敏感
2. 他應向誰求助？
 - A. 警察
 - B. 管理員
 - C. 醫生
3. 以下哪一個方法可讓他快些康復？
 - A. 吃藥
 - B. 看電視
 - C. 聽音樂



(乙)

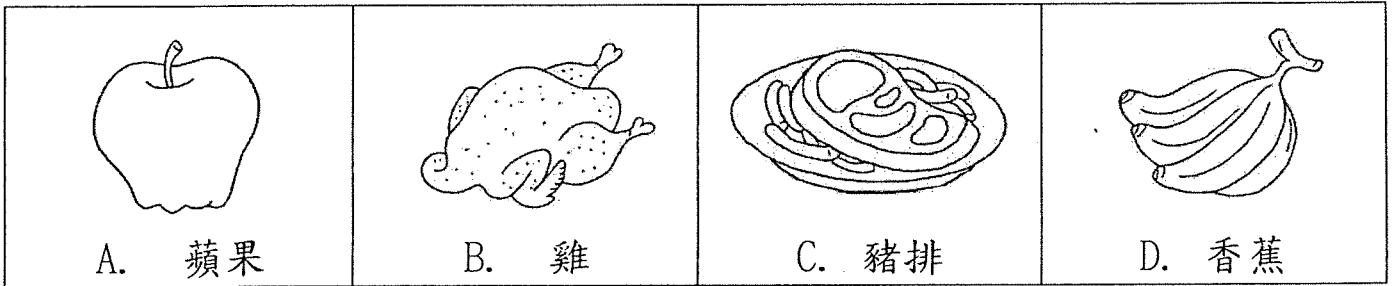


1. 以上圖片是甚麼？
 - A. 海報
 - B. 食物標籤
 - C. 漫畫
2. 我們可用哪種儲存方法保存以上食物？
 - A. 急凍法
 - B. 脫水法
 - C. 罐藏法
3. 我們要在那個限期前食用以上食物？
 - A. 二零一八年十月前
 - B. 二零一八年十二月前
 - C. 二零一九年十二月前



(六) 看圖分類：把代表正確答案的英文字母填在適當的橫線上。(4% @1%)

以下哪些食物是要煮熟才可以吃？哪些食物不用煮熟也可以吃的？



要煮熟才可以吃的食物：_____

不用煮熟也可以吃的食物：_____

(七) 問答：把正確的答案填在橫線上，答案意思必須完整。(8% @4%)

1. 寫出兩項衣服的功能。


a. _____

b. _____

2. 寫出兩個香港的房屋供不應求的原因。

a. _____

b. _____



(八) 時事題：把代表正確答案的英文字母填寫在橫線上。(8% @2%)

1. 大埔區有哪間醫院提供急症服務？ 1. _____

A. 大埔醫院 B. 王少清母嬰健康院

C. 那打素醫院

2. 香港市民可在公共圖書館每次借閱多少本書籍？ 2. _____

A. 六本 B. 七本 C. 八本

3. 哪一個國家於本年 11 月舉行總統大選？ 3. _____

A. 法國 B. 美國 C. 俄羅斯

4. 誰是現任立法會主席？ 4. _____

A. 涂謹申 B. 梁國雄 C. 梁君彥

