

常識 84%	英常 16%	總分 100%	家長 簽閱

常識科

六年級() 姓名: _____ ()

(一) 填充: 將正確答案填在橫線上。12% @2%

1. 大氣層的_____受到破壞, 會使到達地球表面的紫外線增加。
2. 飢餓會導致人們嚴重缺乏營養, 減弱身體的_____, 甚至會死亡。
3. 印度聖雄_____帶領印度人民以和平的方式爭取獨立
4. 過去五十年間, 世界人口呈_____的趨勢。
5. 我們日常使用的能源主要來自煤、石油和_____。
6. 戰爭是一種以_____解決紛爭的方法, 是我們不希望看到的。

(二) 配對: 填上適當的英文字母。8% @1% (英文字母不可重覆使用)

甲. 以下是人口分佈情況。

- | | |
|-------------------|--------|
| 1. 沒有人居住 () | A. 中國 |
| 2. 全球人口最多的國家 () | B. 南極洲 |
| 3. 全球人口第二多的國家 () | C. 北極洲 |
| 4. 人口最多的大洲 () | D. 印度 |
| | E. 非洲 |
| | F. 亞洲 |

乙. 人類過度開採地球資源會造成甚麼後果?

- | | |
|---------------|--------------------|
| 1. 過度耕作土地 () | A. 造成資源不斷減少, 甚至耗盡。 |
| 2. 大量砍伐樹木 () | B. 破壞生態環境, 造成溫室效應。 |
| 3. 過量捕殺動物 () | C. 造成糧食分佈不均勻。 |
| 4. 過度開採礦產 () | D. 令土地貧瘠, 破壞自然景觀。 |
| | E. 動物瀕臨絕種 |

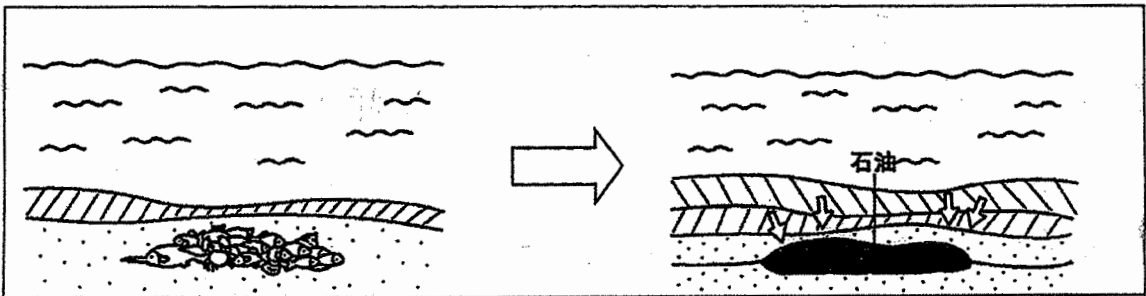
(三) 簡答 4% @2%

1. 哪一種世界問題會引致勞動力缺乏及國家要承受龐大的養老金開支? 1. _____
2. 「四肢及腹部腫脹、身體殘障或智力發展遲緩」, 以上情況都是貧窮國家兒童出現的, 那是甚麼原因造成的? 2. _____

(四)填圖：將正確答案填在橫線上。6% @1%

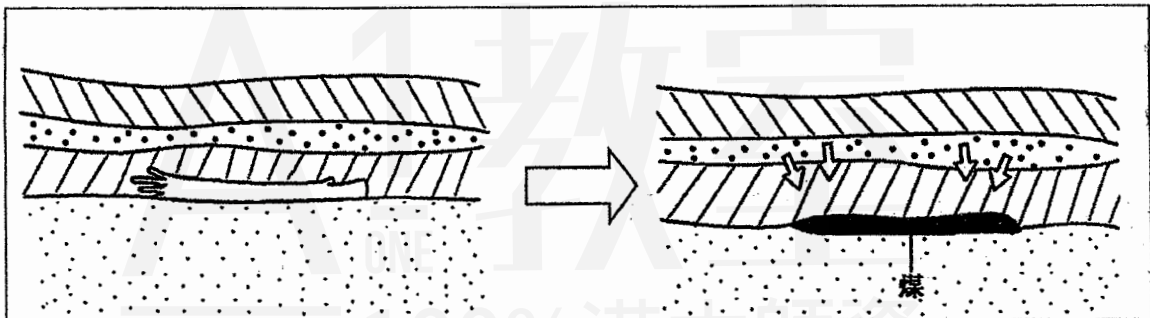
泥土 壓力 樹木 氧氣 遺骸 高溫 水流 砂 動物

甲. 石油的形成過程



海洋生物的 1. _____ 沉到海底，遺骸與 2. _____ 混合，
形成沉積層，在高溫及 3. _____ 下，沉積層變成石油。

乙. 煤的形成過程



遠古的 4. _____ 枯萎，被一層層 5. _____ 覆蓋，
受到 6. _____ 和壓力，變成煤。

(五)問答 6% @2%

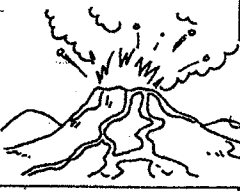

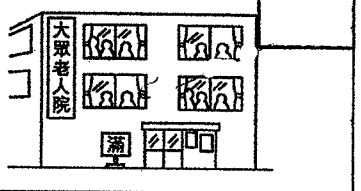



① 世界人口膨脹帶來了甚麼問題？（寫出兩項）2%

2. 國際機構怎樣致力拯救饑民和扶助貧民？（寫出兩項）2%







3. 森林有甚麼作用？（寫出兩項）2%

(六) 圖片辨認：在正確答案的方格內加上✓。 9%

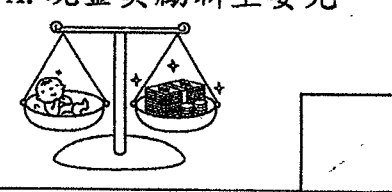





1. 以下哪些是造成飢餓的原因？3% @0.5%


<p>A. 天災發生</p> 	<p>B. 人口膨脹</p> 	<p>C. 人口老化</p> 
<p>D. 兒童失學</p> 	<p>E. 戰爭爆發</p> 	<p>F. 土地貧瘠</p> 

2. 以下哪些是人類不斷破壞森林所帶來的後果？3% @0.5%

<p>A. 設施被破壞</p> 	<p>B. 荒漠化</p> 	<p>C. 洪水氾濫</p> 
<p>D. 全球氣溫上升</p> 	<p>E. 紅潮</p> 	<p>F. 動物數量大減</p> 

3. 以下哪些是控制人口增長的方法？3% @0.5%

<p>A. 現金獎勵新生嬰兒</p> 	<p>B. 鼓勵計劃生育</p> 	<p>C. 託兒津貼</p> 
<p>D. 教育避孕知識</p> 	<p>E. 派發物資</p> 	<p>F. 加強節育的教育和宣傳</p> 



(七) 判斷: 在橫線上填上適當的英文字母。(字母不可重覆使用) 10%







1. 分辨影響世界人口改變的因素。 4% @0.5%

A. 地震及海嘯發生	B. 環境衛生改善
C. 糧食生產提高	D. 戰爭爆發
E. 缺乏節制生育知識	F. 醫療技術進步
G. 土地貧瘠	H. 環境污染嚴重

促使人口增加: _____

促使人口減少: _____







2. 分辨以下機構的服務範圍。 3% @0.5%

A. 國際地球之友	B. 聯合國兒童基金	C. 樂施會
		
D. 國際紅十字會	E. 綠色和平	F. 世界宣明會
		

協助解決污染問題和保護地球的機構: _____

協助解決貧窮和饑荒的機構: _____

3. 分辨戰爭帶來的禍害及引發戰爭的原因。 3% @0.5%

A. 種族衝突 	B. 資源被毀 	C. 人們流離失所 
D. 人命傷亡 	E. 爭奪資源 	F. 個人野心 

戰爭帶來的禍害: _____

引發戰爭的原因: _____



(八) 填表 10%

1939	1925	1918	中國	日本	政治	種族	同盟國	軸心國	協約國
------	------	------	----	----	----	----	-----	-----	-----

甲. 在橫線上填上兩次世界大戰的情況。6% @1%

	第一次世界大戰	第二次世界大戰
何時	1914 年至 1. _____ 年	2. _____ 年至 1945 年
為何	同盟國及協約國在經濟及 3. _____ 上爭霸	世界經濟衰退，美國等國為首 的同盟國對抗 <u>德國</u> 、 <u>意大利</u> 及 4. _____ 組成的軸心國
結果	5. _____ 戰勝	6. _____ 戰勝

乙. 在橫線上填上全球飢餓的情況。4% @1%

飢餓的情況	資料
根據 2013 年統計， 平均每天死於飢餓人數	1. _____ 萬五千人
七大洲之中， 缺糧國家分佈的地區	2. _____ 和 3. _____
飢餓的原因	糧食分佈 4. _____


(九) 時事題 (用英文字母作答) 4% @2%

1. 本年四月底，敘利亞多次遭空襲，一間醫院被炮彈擊中，有多名醫護人員死亡。這間醫院是由什麼國際組織資助營運的？
A. 世界宣明會 B. 國際紅十字會 C. 無國界醫生
1. _____
2. 本年 5 月 14 日，在長洲舉行了一個一年一度的傳統活動，這個活動是什麼？
A. 龍舟競賽 B. 太平清醮 C. 發放煙花
2. _____

(十) 情境題：試根據以下的情況，回答下列各題。3%

1. 右圖是什麼海洋事故?1%

2. 這樣會造成甚麼環境問題?1%(請圈出答案)
(空氣污染 / 水質污染 / 陸地污染)
3. 這種情況對海洋生態造成甚麼影響?(寫出一項)1%



(十一)分類：在方格內填上英文字母。（英文字母不可重覆使用）12%



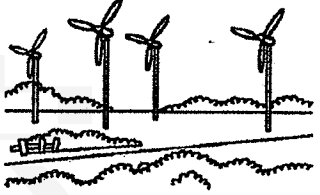



1. 將以下是哪個國際組織的工作及成立目的，填上適當的英文字母答案。

5% @0.5%

A. 調解各國紛爭	B. 對難民和流亡的羣眾進行醫療援助	
C. 維護世界和平	D. 為欠缺醫療設施的地區提供醫療援助	
E. 維護人的生命和尊嚴	F. 派發物資	G. 重建設施
H. 協助尋人	I. 提供醫療援助	J. 禁止發展核子武器

國際組織	聯合國	國際紅十字會	無國界醫生
成立目的			
工作			

2. 以下哪些是可再生能源和有限的資源？3% @0.5%

A. 地熱能 	B. 石油 	C. 風力 
D. 煤 	E. 潮汐能 	F. 太陽能 

可再生能源	有限的資源

3. 以下情況是甚麼環境問題帶來的影響？4% @0.5%

A. 紅潮出現	B. 冰川融化	C. 海洋生物吃下有 毒化學物質死亡	D. 泥土變酸令農作物 死亡
E. 颶風加強	F. 旱災、水災	G. 建築物受損	H. 沿海地區出現泛濫

全球暖化	酸雨	水質污染